

ВСЕРОССИЙСКАЯ ОЛИМПИАДА ШКОЛЬНИКОВ ПО ИСТОРИИ
2019–2020 уч.г.
ШКОЛЬНЫЙ ЭТАП 6 класс
Максимальное количество баллов – 74. Время на выполнение заданий - 60 минут.

Критерии оценивания

Задание 1. Разминка.

Верны ли следующие утверждения? («Да» - «Нет») Ответы внесите в таблицу.

1. Ранним Средневековьем принято считать период с конца V в. до середины XI века.
2. Латынь в Средние века была языком повседневности, на ней говорили даже жители деревень.
3. Вандалы были единственным германским племенем, имевшим собственный флот.
4. Династия, основанная Хлодвигом, известна как Каролинги.
5. Под средневековыми хрониками понимают записи графов и герцогов об уплате налогов их подданными.
6. Названия «Восточная Римская империя» и «Византия» равнозначны.
7. Начальным событием Средних веков является принятие христианства Константином Великим.
8. Последним императором Западной Римской империи был Ромул Августул.

1	2	3	4	5	6	7	8

По 1 баллу за каждый верный ответ.

Всего за задание 8 баллов.

Задание 1. Ответ:

1	2	3	4	5	6	7	8
да	нет	да	нет	нет	да	нет	да

По 1 баллу за каждый верный ответ.

Всего за задание 8 баллов.

Задание 2. Восстановите последовательность событий, записав их буквенные обозначения в хронологическом порядке в таблицу. 10 баллов

- А) падение Западной Римской империи
- Б) битва при Суассоне
- В) разделение Римской империи на Западную и Восточную
- Г) разгром арабов в битве при Пуатье
- Д) коронация Пипина Короткого

Задание 2.

Ответ: В А Б Г Д

10 баллов за полностью верную хронологию. 5 баллов за хронологию с одной ошибкой.

Задание 3. Установите соответствие между битвами и государями, принимавшими в них участие. Внесите ответ в таблицу. 6 баллов.

БИТВА	ГОСУДАРЬ
А) битва при Гастингсе	1) Ксеркс
Б) битва при Гавгамелах	2) Марк Антоний
В) битва при Пуатье	3) Ганнибал
Г) сражение у Фермопил	4) Абдур-Рахман
Д) битва при Каннах	5) Вильгельм Завоеватель
Е) битва у мыса Акции	6) Александр Македонский

Задание 3. Всего 6 баллов.

Ответ:

А	Б	В	Г	Д	Е
5	6	4	1	3	2

Задание 4. Прочитайте текст и выпишите три содержащиеся в нём исторические ошибки. Запишите правильные ответы.

Средневековые монастыри стали центрами проживания белого духовенства, очагами культуры и образования в варварской Европе. Главными постулатами монашества стали уединение, смирение, отказ от мирской жизни. Во главе каждого западноевропейского монастыря стоял наместник – игумен, руководивший как богослужebной, так и хозяйственной жизнью обители.

Образованные монахи значительную часть своей жизни проводили в скриптории – специальной мастерской по переписке книг. Основным материалом для рукописных книг в Раннее и Развитое Средневековье являлась бумага, которую получали при помощи специальных прессов, располагавшихся в скрипториях. Стоимость книг была очень большой. Так, Библия большого формата стоила примерно столько же, сколько и стадо из трёхсот телят.

Всего за задание 15 балла.

Задание 4.

Ответ:

Ошибки	Правильные ответы
1. Средневековые монастыри стали центрами проживания белого духовенства-	1. Монастыри были центрами проживания черного духовенства
2. Во главе каждого западноевропейского монастыря стоял наместник – игумен-	2. На самом деле, во главе западноевропейского монастыря стоял аббат.
3. Основным материалом для рукописных книг в Раннее и Развитое Средневековье являлась бумага.	3. Основным материалом был пергамен.

9 баллов за указание ошибок (по 3 балла за каждую ошибку) и **до 6 баллов** за объяснения (2 балла за каждое верное объяснение, не содержащее ошибок и неточностей).

Всего за задание 15 баллов.

Задание 5. Вставьте вместо пропусков порядковые номера соответствующих слов из предложенного списка.

Слова даны в списке в именительном падеже, прилагательные в форме мужского рода. Обратите внимание: в списке слов есть и такие, которые в тексте встречаться не должны!

Ответ внесите в таблицу.

14 баллов.

С оформлением к началу IX в. крупной земельной собственности произошли существенные изменения в хозяйственной и социальной организации (А). Земля во владении обычно делилась на две части: на господскую землю, или (Б), на которой велось хозяйство феодала, и на землю, находившуюся в пользовании (В) крестьян и состоявшую из наделов.

Наделы, на которых сидели крестьяне, были тяглыми, так как на них лежали определённые повинности в виде: натуральной ренты – (Г) и работы на хозяйской земле – (Д). Следствием переворота в поземельных отношениях в VIII–IX вв. явилось значительное укрепление (Е) в Каролингском государстве. Сложилась (Ж) социальная структура общества.



1. барщина	6. франки
2. свободный	7. домен
3. поместье	8. сословный
4. оброк	9. феодализм
5. зависимый	10. рабовладение

Задание 5. Ответ:

А	Б	В	Г	Д	Е	Ж
6	7	5	4	1	9	8

По 2 балла за каждую верную вставку. Всего за задание 14 баллов.

Задание 6. Установите последовательность создания памятников, представленных на иллюстрациях. Запишите буквы, которыми обозначены иллюстрации, в правильной последовательности в таблицу.

1.		2.	
----	---	----	--



Задание 6. Ответ.

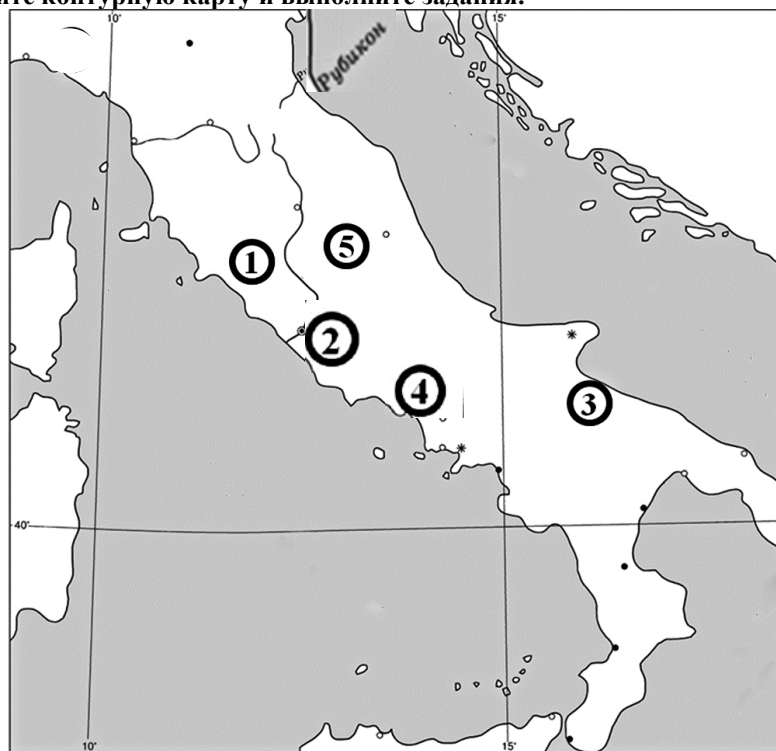
А	Б	В	Г
3	2	1	4

6 баллов за полностью верную хронологию. 3 балла за хронологию с одной ошибкой.

За две и более ошибки – 0 баллов.

Всего за задание 6 баллов.

Задание 7. Рассмотрите контурную карту и выполните задания.



7.1. Укажите цифру, которой на контурной карте отмечен город, легендарное основание которого Ромулом относят к 753 г. до н. э., и подпишите название реки, в воды которой по легенде была выброшена корзина младенцами Ромулом и Рэмом по приказу царя Амулия.

Всего 4 балла.

Задание 7.

7.1. Ответ: 2 - город Рим и река Тибр. По 2 баллу за каждый элемент. Всего 4 балла.

7.2. Укажите цифру, которой на контурной карте отмечен город (подпишите его название), в котором началось восстание гладиаторов под предводительством Спартака.

Всего 4 балла.

7.2. Ответ: 4 - город Капуя. Всего 4 балла.

7.3. Прочтите отрывок из энциклопедической статьи.

«В 49 году до н. э., вопреки запрету римского сената, Юлий Цезарь со своими легионами перешёл рубеж, служивший границей между Умбрией и Ближней Галлией, воскликнув: "Жребий брошен!" Это послужило началом войны между сенатом и Юлием Цезарем, в результате которой он овладел Римом».

Обозначьте на схеме крестиком место, где произошло событие, о котором идёт речь.

7.3. Ответ: район реки Рубикон. (3 балла)

7.4. Напишите названия **трёх любых морей**, являющихся составными частями крупного моря, которые изображены на данной схеме.

Всего 3 балла.

Всего за задание 14 баллов.

7.4 Ответ: могут быть подписаны моря: Тирренское, Адриатическое, Ионическое, Лигурийское.

По 1 баллу за каждый верный элемент ответа. Всего 3 балла.

Всего за задание 14 баллов.

8. Ответ: **Композитор Фарит Фатихович Идрисов. 1 балл**

Всего в работе 74 баллов.